



Itemi pentru evaluare
Geografie
Clasa a XII-a
Semestrul al II - lea

Harta de mai sus se referă la subiectul I A – D. Pe hartă sunt marcate state cu litere și orașe-capitală cu numere.

A. Precizați:

1. numele statelor marcate, pe hartă, cu litere
2. numele orașelor-capitală marcate, pe hartă, cu numere.

4 puncte

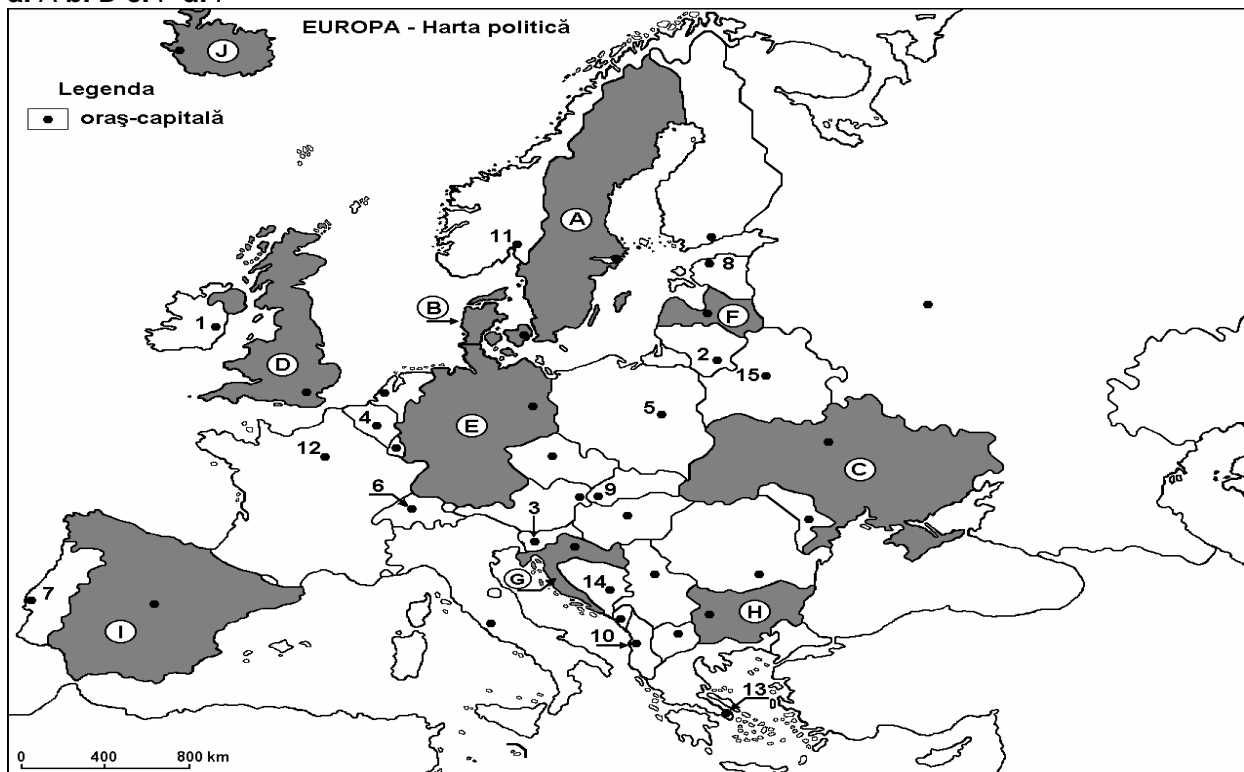
B. Scrieți, pe foaia de examen, răspunsurile corecte care completează propozițiile de mai jos:

1. Vulcanul Hekla este situat pe teritoriul statului marcat, pe hartă, cu litera ...
2. Capitala statului marcat, pe hartă, cu litera **G** se numește...
3. Fluviul Sena străbate orașul capitală marcat, pe hartă, cu numărul ...

6 puncte

C. Scrieți, pe foaia de examen, litera corespunzătoare răspunsului corect pentru fiecare dintre afirmațiile de mai jos:

1. Aglomerația urbană Rhin – Ruhr este situată pe teritoriul statului marcat, pe hartă, cu litera:
a. B b. E c. G d. H 2 puncte
2. Munții Stara Planina (Balcani) sunt situați pe teritoriul statului, marcat, pe hartă, cu litera:
a. B b. C c. D d. H
3. Statul marcat, pe hartă, cu litera **A** are capitala în orașul:
a. Atena b. București c. Londra d. Stockholm 2 puncte
4. Kiev este capitala statului marcat, pe hartă, cu litera:
a. A b. B c. C d. J 2 puncte
5. Vegetație mediteraneană este specifică statului marcat, pe hartă, cu litera:
a. A b. D c. F d. I



Harta de mai sus se referă la subiectul I A – C. Pe hartă sunt marcate state cu litere și orașe

– capitală cu numere de la 1 la 10.

A. Precizați:

1. numele statelor marcate, pe hartă, cu litere
2. numele orașelor – capitală marcate, pe hartă, cu numere.

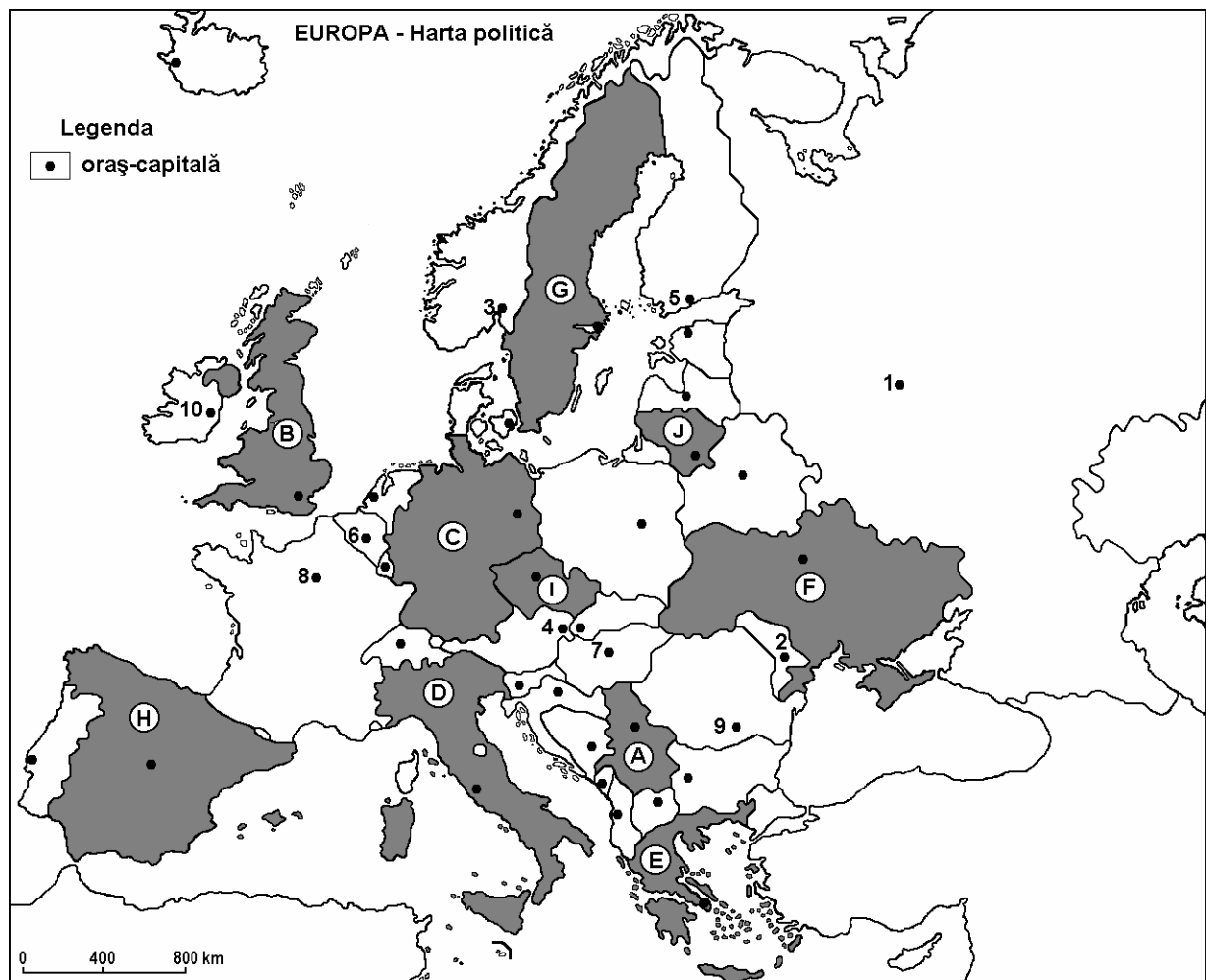
4 puncte

B. Scrieți, pe foaia de examen, răspunsurile corecte care completează propozițiile de mai jos:

1. Orașul marcat, pe hartă, cu numărul **7** se numește...
2. Statul marcat, pe hartă, cu litera **J** se numește...
3. Capitala statului marcat, pe hartă, cu litera **C** se numește...

C. Scrieți, pe foaia de examen, litera corespunzătoare răspunsului corect pentru fiecare dintre afirmațiile de mai jos:

1. Statul care ocupă cea mai mare parte din Peninsula Iberică este marcat, pe hartă, cu litera:
a. A b. C c. D d. H 2 puncte
2. Capitala statului marcat, pe hartă, cu litera **B**, este orașul denumit:
a. Londra b. Madrid c. Paris d. Roma 2 puncte
3. Vegetație de tip mediteranean se află pe teritoriul statului marcat, pe hartă, cu litera:
a. C b. E c. F d. G 2 puncte
4. Orașul marcat, pe hartă, cu numărul **10** este capitala statului:
a. Irlanda b. Islanda c. Marea Britanie d. Olanda 2 puncte
5. Statul marcat, pe hartă, cu litera **G** se învecinează la vest cu:
a. Belarus b. Danemarca c. Finlanda



Harta de mai sus se referă la subiectul II A – D. Pe hartă sunt marcate unități de relief, cu litere, orașe (cu peste 50 000 loc.) cu numere de la 1 la 6 și râuri cu numere de la 7 la 12.

A. Scrieți pe foaia de examen:

1. numele unităților de relief marcate, pe hartă, cu litere;
2. numele râurilor marcate, pe hartă, cu numere.

4 puncte

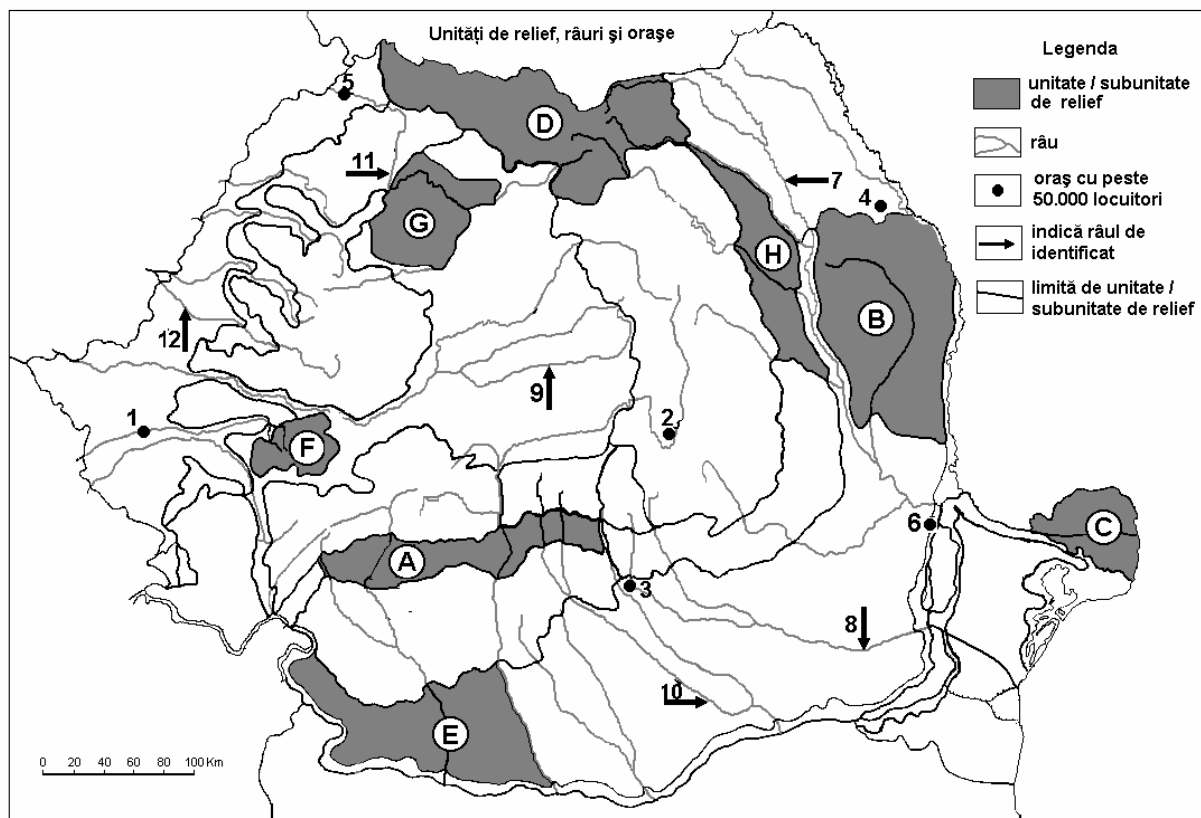
B. Scrieți, pe foaia de examen, răspunsurile corecte care completează propozițiile de mai jos:

1. Unitatea de relief marcată, pe hartă, cu litera **B**, se învecinează la nord, cu Câmpia ...
2. Subunitatea de relief marcată, pe hartă, cu litera **G**, face parte din unitatea majoră de relief numită, Depresiunea ...
3. În unitatea de relief marcată, pe hartă, cu litera **B**, sunt specifice influențele climatice ...

6 puncte

C. Scrieți, pe foaia de examen, litera corespunzătoare răspunsului corect pentru fiecare dintre afirmațiile de mai jos:

1. Unitatea de relief marcată, pe hartă, cu litera **F** este limitată la nord de râul numit:
2. Cele mai mari cantități de precipitații se înregistrează în unitatea de relief marcată cu litera:
a. B b. C c. D d. H
3. Vegetația de silvostepă este specifică unității marcate, pe hartă, cu litera:
a. C b. E c. G d. H **2 puncte**
4. Pescuitul este ocupația principală a locuitorilor din unitatea de relief marcată, pe hartă, cu litera:
a. C b. D c. E d. G **2 puncte**
5. Orașul marcat, pe hartă, cu numărul **1** se numește:
a. Arad b. Caransebeș c. Reșița d. Timișoara



Harta de mai sus se referă la subiectul II A, B, C, D. Pe hartă sunt marcate subunități de relief cu litere, orașe cu numere de la 1 la 6 și râuri cu numere de la 7 la 12.

A. Precizați:

1. numele subunităților de relief marcate, pe hartă, cu litere ;
2. numele orașelor marcate, pe hartă, cu numere

B. Scrieți pe foaia de examen, răspunsurile corecte care completează propozițiile de mai jos:

1. Subunitatea marcată, pe hartă, cu litera **H** s-a format în orogeneza ... **2 puncte**
2. Râul marcat, pe hartă, cu numărul **11** se numește ... **2 puncte**
3. Orașul marcat, pe hartă, cu numărul **6** se numește ... **2 puncte**

C. Scrieți pe foaia de examen, litera corespunzătoare răspunsului corect pentru fiecare dintre afirmațiile de mai jos:

1. Orașul Bacău este marcat, pe hartă, cu numărul:

a. 1 b. 2 c. 4 d. 5 2puncte

2. Cele mai mici altitudini medii se află în subunitatea de relief marcată, pe hartă, cu litera:

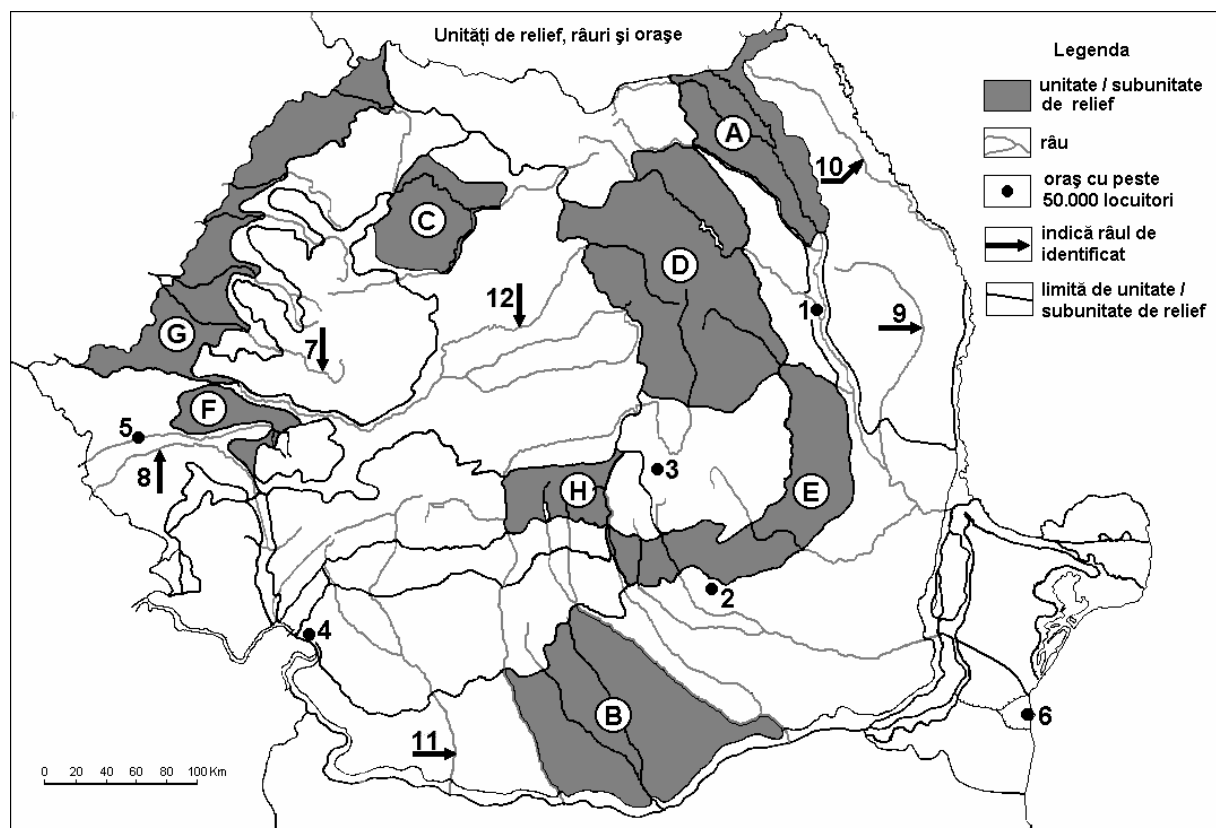
a. A b. C c. E d. F 2puncte

3. Subunitatea marcată, pe hartă, cu litera **C** este străbătută de la Est la Vest de râul:

a. Barcău b. Crișul Repede c. Someș d. Tur 2puncte

4. Zăcăminte de petrol se găsesc în subunitatea marcată, pe hartă, cu litera:

a. A b. C c. E d. H



Harta de mai sus se referă la subiectele A – D. Pe hartă sunt marcate state cu litere și orașe –capitală cu numere.

A. Precizați:

1. numele statelor marcate, pe hartă, cu litere;
2. numele orașelor-capitală marcate, pe hartă, cu numere

4 puncte

B. Scrieți, pe foaia de examen, răspunsurile corecte care completează propozițiile de mai jos:

1. Statul marcat, pe hartă, cu litera **C** se află situat în Peninsula ...
2. Statul marcat, pe hartă, cu litera **H** are deschidere la Marea ...
3. Capitala statului marcat, pe hartă, cu litera **E**, este traversată de fluviul ...

C. Scrieți, pe foaia de examen, litera corespunzătoare răspunsului corect pentru fiecare dintre afirmațiile de mai jos:

1. Primul Meridian străbate statul marcat, pe hartă, cu litera:

a. C b. D c. F d. J 2 puncte

2. Climatul temperat oceanic este specific în statul marcat, pe hartă, cu litera:

a. A b. C c. D d. F 2 puncte

3. Câmpia Padului este situată în statul marcat, pe hartă, cu litera:

a. A b. B c. D d. I 2 puncte

4. Fluviul Volga străbate teritoriul statului marcat, pe hartă, cu litera:

a. A b. B c. G d. H 2 puncte

5. Polderele sunt specifice statului marcat, pe hartă, cu litera:

a. A b. C c. E d. I

