

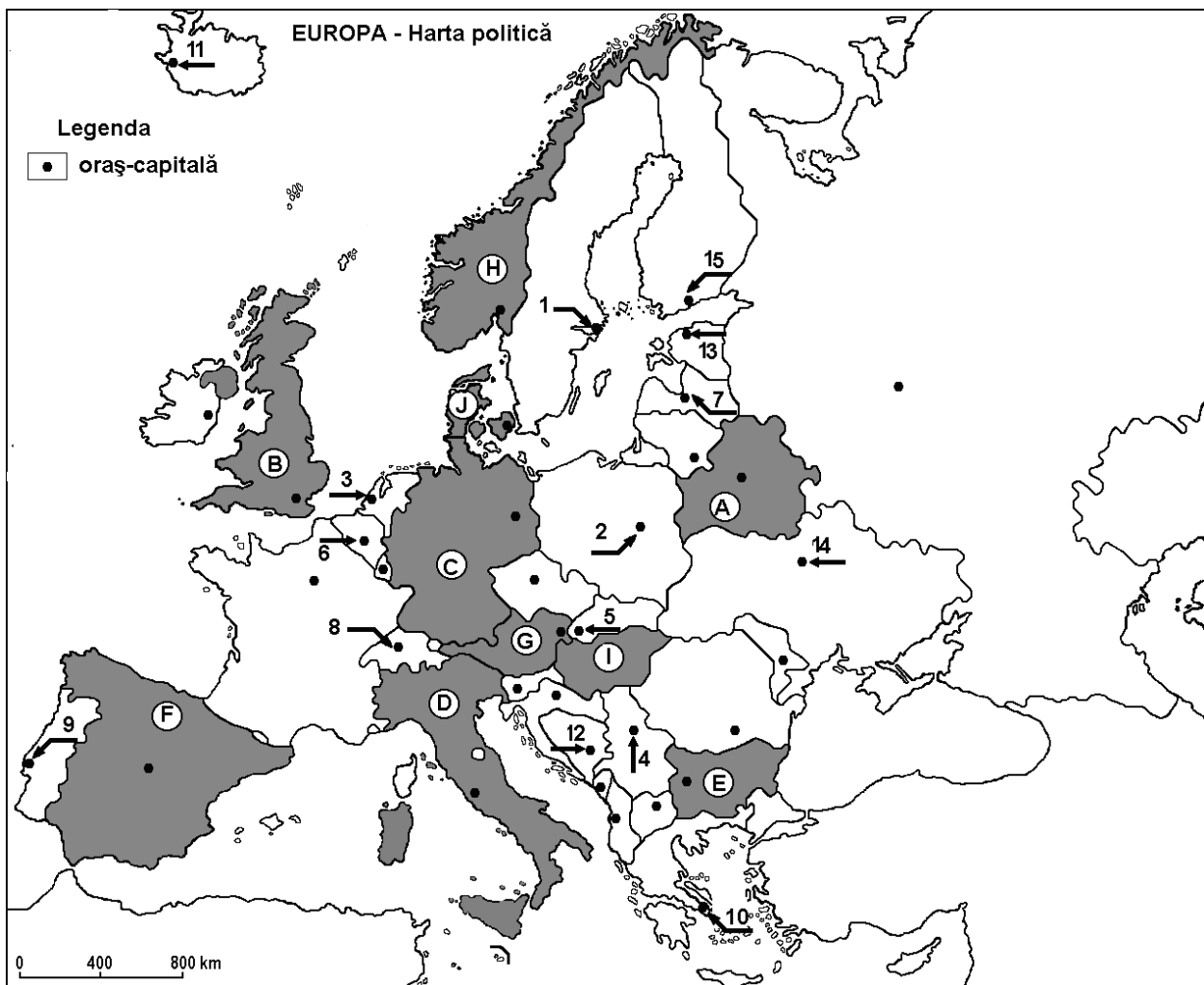
ITEMI DE EVALUARE LA GEOGRAFI

SEMESTRUL I

CLASA A XI-A

: EUROPA – ROMÂNIA – UNIUNEA EUROPEANĂ

Spațiul românesc și spațiul european + Relieful Europei



A. Scrieți, răspunsurile corecte care completează propozițiile de mai jos: -20 puncte

1. Vulcanii Etna și Vezuviu sunt se află în statul marcat, pe hartă, cu litera
2. Munții Penini se găsesc în statul marcat, pe hartă cu litera.....
3. Munții Alpi se găsesc în nordul statului marcat, pe hartă, cu litera.....
4. Podișul Meseta este situat în statul marcat, pe hartă, cu litera.....

5. Lanțul muntos situat pe teritoriul statului marcat, pe hartă, cu litera **H** este cel al Munților
6. Munții Apenini se găsesc pe teritoriul statului marcat, pe hartă, cu litera
7. La granița dintre Franța și statul marcat, pe hartă, cu litera **F** se află Munții
8. Punctul extrem nordic al Europei se află pe teritoriul statului marcat, pe hartă, cu litera
9. Munții Stara Planina (Balcani) se află pe teritoriul statului marcat, pe hartă, cu litera
10. Statul marcat, pe hartă, cu litera **A** este situat în Peninsula

B. Scrieți, litera corespunzătoare răspunsului corect pentru fiecare dintre afirmațiile de mai jos: -15 puncte

1. Țărmurile cu fiorduri sunt specifice statului marcat, pe hartă, cu litera:
 - a. A
 - b. D
 - c. H
 - d. J
2. Câmpia situată pe teritoriul statelor marcate, pe hartă, cu literele **C** este de origine:
 - a. fluvio-lacustră
 - b. fluvio-glaciară
 - c. litorală
 - d. piemontană
3. Nu are ieșire la Oceanul Planetar statul marcat, pe hartă, cu litera:
 - a. A
 - b. F
 - c. H
 - d. J
4. Munții Alpi sunt situați și pe teritoriul statului marcat, pe hartă, cu litera:
 - a. A
 - b. B
 - c. C
 - d. F
5. Munții Balcani se desfășoară pe teritoriul statului marcat, pe hartă, cu litera:
 - a. D
 - b. E
 - c. F
 - d. J

C. Precizați două deosebiri și o asemănare între relieful Munților Alpi și relieful Munților Scandinaviei.

Nota 1: Deosebirile se pot referi la oricare dintre următoarele aspecte ale reliefului: mod de formare, tipuri de roci, distribuția spațială a altitudinilor, gradul de fragmentare, orientarea culmilor și a văilor principale, tipuri genetice de relief, alte aspecte specifice ale reliefului.

Nota 2: Punctajul complet va fi acordat numai dacă cele două deosebiri și asemănarea vor fi prezentate comparativ și nu separat. -15 puncte

D. Scrieți, litera corespunzătoare răspunsului corect pentru fiecare dintre afirmațiile de mai jos: -15 puncte

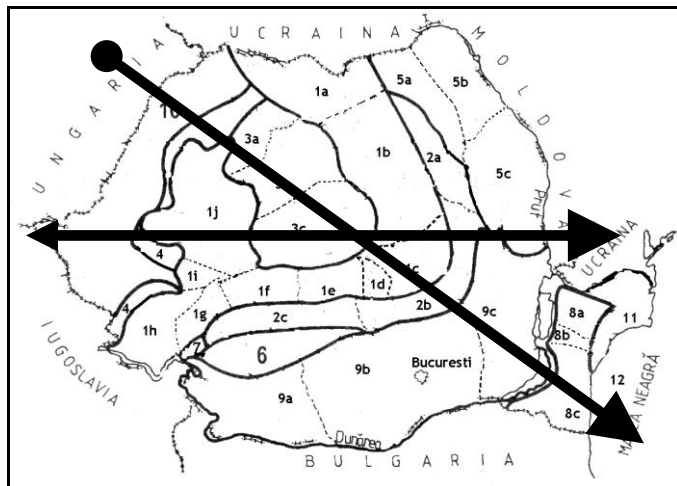
1. România este situată față de Capul Matapan la o distanță de:
 - a 1000 km;
 - b 2200 km;
 - c. 2900 km;
 - d 3000 km.
2. Punctul extrem din nordul țării este în localitatea:
 - a. Zimnicea;
 - b Beba Veche;
 - c Horodiștea;
 - d Sulina.
3. Clima și vegetația țării noastre au caracteristici:
 - a sud - europene ;
 - b sud – est - europene;
 - c central - europene;
 - d est - europene.
4. Cele mai mari altitudini se înregistrează în unitatea de relief numită:
 - a Carpați;
 - b Câmpia Română;
 - c Podișul Dobrogei;
 - d Delta Dunării
5. Țara vecină din sud – vestul României este:
 - a Ungaria;
 - b Bulgaria;
 - c Iugoslavia;
 - d Ucraina.

E. Completează linia punctată cu răspunsul corect -15 puncte

1. Centrul țării se află la intersecția paralelei de.....lat. N cu meridianul de.....long. E
2. Poziția României, la distanțe egale de Polul Nord și Ecuator, este dată de paralela de.....
3. Distanța dintre Capul Roca și România însumează.....
4. Meridianul de.....long. E situează România la distanțe egale de Munții Ural și Capul Roca.
5. Suprafața României este de.....km²

F. Dacă s-ar executa un profil geografic pe harta României, am observa următoarele unități majore de relief:

Carpații Orientali, Carpații Apuseni, Carpații Curburii, Carpații Banatului, Carpații Meridionali, Subcarpații Moldovei, Subcarpații Getici, Subcarpații de Curbură, Pod. Moldovei, Pod. Getic, Pod. Mehedinți, Pod. Dobrogei, Dep. Colinară a Transilvaniei, Dealurile de Vest, Delta Dunării, Câmpia de Vest, Câmpia Română, Lunca Dunării, Platforma continentală a Mării Negre



Se cere să identificați câte cinci unități de relief, astfel:

- a. dacă profilul s-ar executa pe direcție Vest-Est
- b. dacă profilul s-ar executa pe direcție NV - SE

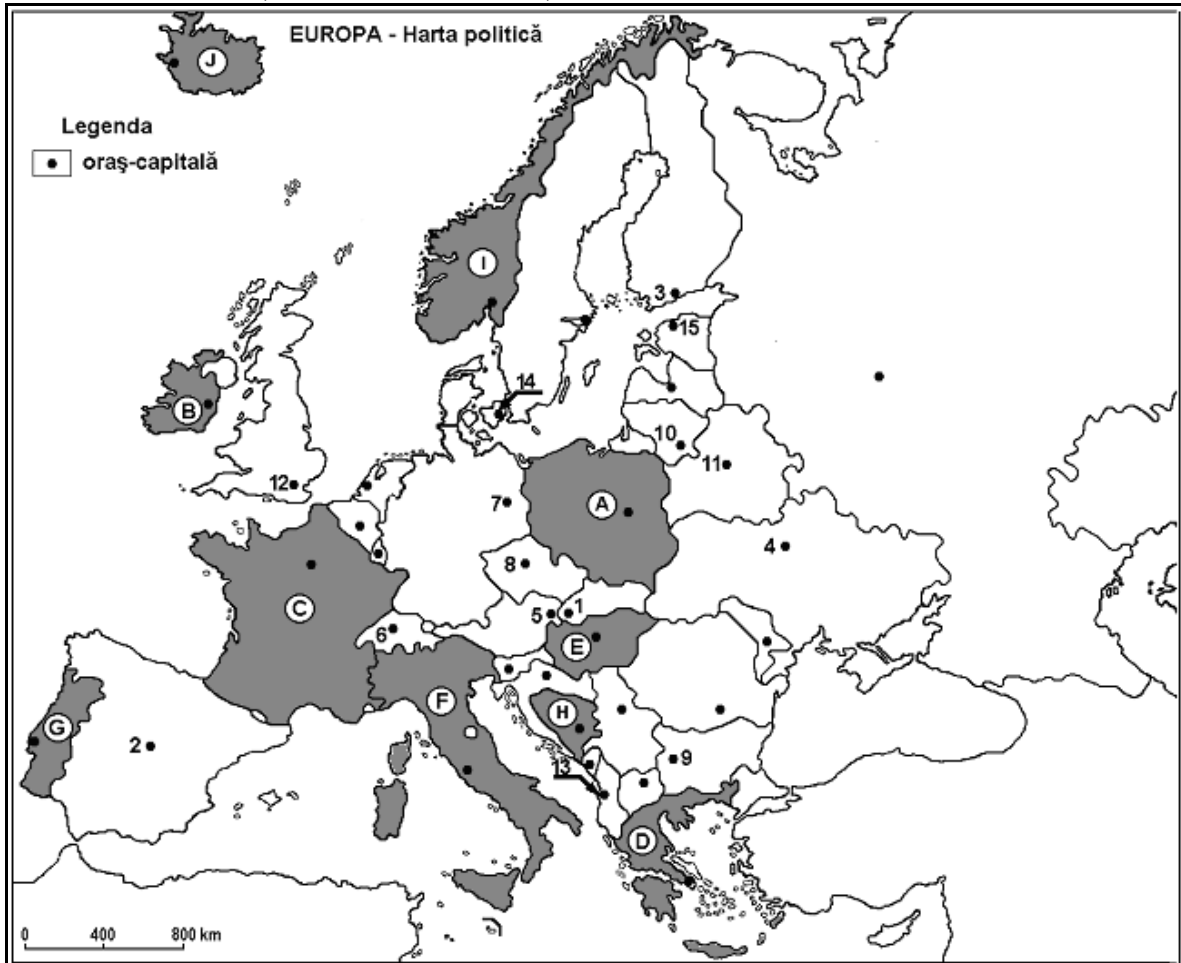
-10 puncte

Timp de lucru efectiv **25 minute**

Se acordă din oficiu **10 puncte**

ITEMI DE EVALUARE GEOGRAFIE

Spațiul românesc și spațiul european + Relieful Europei



A. Scrieți, răspunsurile corecte care completează propozițiile de mai jos: -20 puncte

1. Vulcanul Hekla sunt se află în statul marcat, pe hartă, cu litera
2. Munții Apenini se găsesc în statul marcat, pe hartă cu litera.....
3. Munții Pindului se găsesc în statul marcat, pe hartă, cu litera.....
4. Podișul Meseta este situat în statul marcat, pe hartă, cu litera.....
5. Lanțul muntos situat în nordul statului marcat, pe hartă, cu litera **F** este cel al Munților
6. Alpii Scandinaviei se găsesc pe teritoriul statului marcat, pe hartă, cu litera
7. La granița dintre Franța și statul marcat, pe hartă, cu litera **F** se află Munții
8. Punctul extrem sudic al Europei se află pe teritoriul statului marcat, pe hartă, cu litera
9. Munții Pirinei se află la granița sudică a statului marcat, pe hartă, cu litera
10. Statul marcat, pe hartă, cu litera **D** este situat în Peninsula

B. Scrieți, litera corespunzătoare răspunsului corect pentru fiecare dintre afirmațiile de mai jos: -15 puncte

1. Țărmurile cu estuare sunt specifice statului marcat, pe hartă, cu litera:

a. A	b. C	c. H	d. J
------	------	------	------
2. Câmpia situată pe teritoriul statului marcat, pe hartă, cu litera **C** este de origine:

a. fluvio-lacustră	b. fluvio-glaciară	c. litorală	d. piemontană
--------------------	--------------------	-------------	---------------
3. Nu are ieșire la Oceanul Planetar statul marcat, pe hartă, cu litera:

a. A	b. E	c. H	d. J
------	------	------	------
4. Munții Alpi sunt situați și pe teritoriul statului marcat, pe hartă, cu litera:

a. A	b. B	c. C	d. D
------	------	------	------
5. Munții Carpați se desfășoară pe teritoriul statului marcat, pe hartă, cu litera:

a. A

b. C

c. F

d. J

C. Precizați două deosebiri și o asemănare între **relieful** Munților Alpi și **relieful** Munților Ural.

Nota 1: Deosebirile și asemănarea se pot referi la oricare dintre următoarele aspecte ale **reliefului**: mod de formare, tipuri de roci, distribuția spațială a altitudinilor, gradul de fragmentare, orientarea culmilor și a văilor principale, tipuri genetice de relief, alte aspecte specifice ale reliefului.

Nota 2: Punctajul complet va fi acordat numai dacă cele două deosebiri și asemănarea vor fi prezentate comparativ și nu separat.

D. Scrieți, litera corespunzătoare răspunsului corect pentru fiecare dintre afirmațiile de mai jos: **-15 puncte**

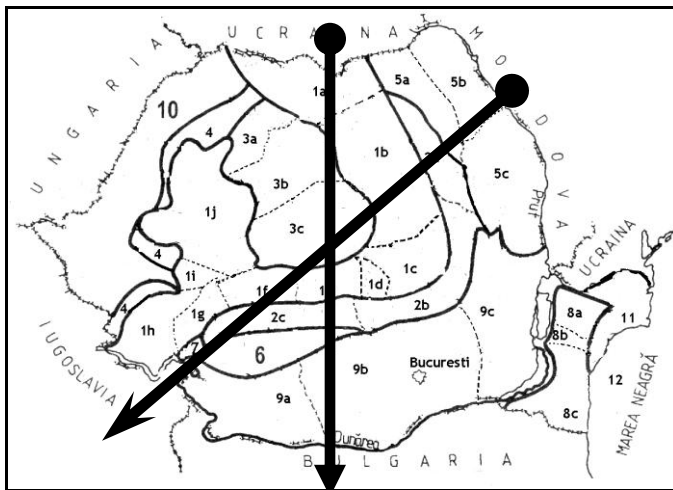
1. România este situată la 1000 de km distanță față la o de:
a M-ții Ural; b Capul Rocca; c. Capul Nord; d Capul Matapan
2. Punctul extrem din sudic al țării este în localitatea:
a. Zimnicea; b Beba Veche; c Horodiștea; d Sulina.
3. Clima și vegetația țării noastre au caracteristici:
a sud - europene ; b sud – est - europene; c central - europene; d est - europene.
4. Cele mai mici altitudini se înregistrează în unitatea de relief numită:
a Carpați; b Câmpia Română; c Podișul Dobrogei; d Delta Dunării.
5. Țara vecină din vestul României este:
a Ungaria; b Bulgaria; c Iugoslavia; d Ucraina.

E. Completează linia punctată cu răspunsul corect **-15 puncte**

1. Cea mai veche regiune de orogen din România este
2. Localitatea situată la extremitatea nordică a țării este
3. Țara noastră se învecinează în S cu statul
4. Suprafața României este dekm
5. Localitatea situată la extremitatea nordică a țării este

F. Dacă s-ar executa un profil geografic pe harta României, am observa următoarele unități majore de relief:

Carpații Orientali, Carpații Apuseni, Carpații Curburii, Carpații Banatului, Carpații Meridionali, Subcarpații Moldovei, Subcarpații Getici, Subcarpații de Curbură, Pod. Moldovei, Pod. Getic, Pod. Mehedinți, Pod. Dobrogei, Dep. Colinară a Transilvaniei, Dealurile de Vest, Delta Dunării, Câmpia de Vest, Câmpia Română, Lunca Dunării, Platforma continentală a Mării Negre



Se cere să identificați cinci unități de relief, astfel:

- a. dacă profilul s-ar executa pe direcție **Nord-Sud**
- b. dacă profilul s-ar executa pe direcție **NE - SV**

Timp de lucru efectiv **25 minute**

Se acordă din oficiu **10 puncte**

1. România se desfășoară în spațiul:

- a. Carpato-danubiano-panonic;
- b. Carpato-danubiano-pontic;
- c. Carpato-danubiano-balcanic.

2. Ce paralela, care trece prin România, are un rol distinct în poziționarea acesteia în cadrul emisferei

nordice?

- a. 35°;
- b. 25°;
- c. 45°;

3. Europa avea în componența sa la finele anului 2007:

- a. 27 state;
- b. 46 state;
- c. 35 state;

4. Alțitudoinea de 4807 m este atinsă la nivelul continentului european în:

- a. Vf. Elbrus;
- b. Vf. Moldoveanu;
- c. Vf. Mont Blanc;

5. Alțitudoinea de 2544 m este atinsă la nivelul României în:

- a. Vf. Moldoveanu;
- b. Vf. Omu;
- c. Vf. Negoiu;

6. Următoarele unități de relief sunt unități de orogen:

- a. Carpații și Podișul Moldovei;
- b. Câmpia Română și Carpații;
- c. Subcarpații și Podișul Mehedinți;

7. Precizați numele lanțului muntos cu o lungime de peste 2000 km, desfășurat de la nord-sud și care este situat în extremitatea estică a Europei:

- a. Munții Carpați;
- b. Munții Ural;
- c. Munții Pirinei;

8. Care sunt vulcanii activi din Europa:

- a. Vezuviu, Camerun;
- b. Etna, Stromboli;
- c. Vulcano, Pinatubo;

9. Următoarele fluvii europene formează la vărsare delte:

- a. Elba, Tamisa, Volga;
- b. Tamisa, Dunarea, Volga;
- c. Volga, Dunarea, Pad;

10. Peninsula Iberică se află în:

- a. Europa Vestică;
- b. Europa Sudică;
- c. Europa Centrală;

11. Precizați numele lanțului carpatic care se desfășoară între Valea Prahovei și culoarul depresionar Timis-Cerna:

- a. Carpații Occidentali;
- b. Carpații Orientali;
- c. Carpații Meridionali;

12. Depresiunea Brașov este o depresiune situată în:

- a. Carpații Orientali;
- b. Carpații Occidentali;
- c. Carpații Meridionali;

13. Câmpia Româna de la est de Arges se afla sub influenta climatului temperat:

- a. Oceanic;
- b. Continental;
- c. Baltic.

14. Al doilea fluviu al Europei, cu o lungime de 2860 km si o suprafata a bazinului hidrografic de 805.300 km²

este:

- a. Volga;
- b. Dunarea;
- c. Nipru.

15. Fluviile care se varsa în Oceanul Arctic se caracterizeaza în sezonul rece printr-o scurgere:

- a. Redusa;
- b. Complexa;
- c. Bogata;

16. Rhonul se varsa în:

- a. Marea Mânecii;
- b. Marea Mediterana;
- c. Marea Nordului;

17. Din punct de vedere biopedogeografic insulele arctice si nordul continentului european sunt incluse în:

- a. Zona de taiga;
- b. Zona de tundra;
- c. Zona nemorala.

18. Din punct de vedere biopedogeografic, din zona stepei face parte:

- a. Cea mai mare parte a Dobrogei;
- b. Câmpia Somesului;
- c. Câmpia de la vest de Arges.

Capitalele Europei

1. Este capitala Greciei oraşul: a) Istanbul; b) Roma; c) Salonic; d) Atena;
2. Statul Finlanda are capitala la: a) Helsinki; b) Oslo; c) Copenhaga; d) Amsterdam;
3. Se învecinează cu Belgia: a) Spania; b) Austria; c) Germania; d) Elveţia;
4. Este capitala Ucrainei oraşul: a) Moscova; b) Minsk; c) Kiev; d) Budapesta;
5. Oraşul Praga este capitala statului: a) Cehiei; b) Poloniei; c) Olandei; d) Slovaciei;
6. Statul Portugalia are capitala la: a) Madrid; b) Porto; c) Lisabona; d) Barcelona;
7. Oraşul Amsterdam este capitala statului: a) Danemarca; b) Olanda; c) Belgia; d) Luxemburg;
8. Se învecinează cu Cehia statul: a) Franţa; b) Sovenia; c) Ungaria; d) Slovacia;
9. Oraşul Stockholm este capitala statului: a) Suedia; b) Cehia; c) Norvegia; d) Danemarca;
10. Se învecinează la vest cu Norvegia statul: a) Islanda; b) Olanda; c) Irlanda; d) Suedia;
11. Statul Elveţia are capitala la: a) Geneva; b) Berna; c) Zurich; d) Viena;
12. Este capitala Belgiei oraşul: a) Amsterdam; b) Bruxelles; c) Strasbourg; d) Luxemburg;
13. Statul Lituania are capitala la: a) Vilnius; b) Riga; c) Minsk; d) Kiev;
14. Oraşul Berlin este capitala statului: a) Danemarca; b) Germania; c) Polonia; d) Suedia;
15. Oraşul La Valetta este capitala statului: a) Malta; b) Spania; c) San Marino; d)
16. Statul Spania are capitala la: a) Valencia; b) Lisabona; c) Sevilla; d) Madrid;
17. Tirana este capitala statului: a) Albania; b) Croaţia; c) Estonia; d) Turcia;
18. In vestul statului Spania se află: a) Portugalia; b) Franţa; c) Germania; d) Italia;
19. Este capitala Austriei oraşul: a) Berlin; b) Berna; c) Budapesta; d) Viena;

20. Statul Slovenia are capitala la: a) Ljubljana; b) Zagreb; c) Bratislava; d) Skopje;
21. Orașul Varșovia este capitala statului: a) Cehia; b) Polonia; c) Belgia; d) Muntenegru;
22. Statul Monaco are capitala la: a) Monaco-Ville; b) Monte Carlo; c) Nisa; d) Paris;
23. Se învecinează cu Bulgaria la est: a) Grecia; b) Ungaria; c) Macedonia; d) România;
24. Este capitala Angliei orașul: a) Londra; b) Dublin; c) Bruxelles; d) Paris;
25. Statul Belarus are capitala la: a) Minsk; b) Kiev; c) Moscova; d) Chișinău;
26. Orașul Vaduz este capitala statului: a) Cipru; b) Andorra; c) Liechtenstein; d) San Marino;
27. Se învecinează cu Croația statul: a) Austria; b) Bosnia și Herțegovina; c) România; d) Macedonia;
28. Statul Cipru are capitala la: a) Vilnius; b) Nicosia; c) d) La Valetta; d) Sarajevo;
29. În estul Sloveniei se află: a) Ungaria; b) Muntenegru; c) Cehia; d) Macedonia;
30. Statul Bulgaria are capitala la: a) Burgas; b) Budapesta; c) Belgrad; d) Sofia;