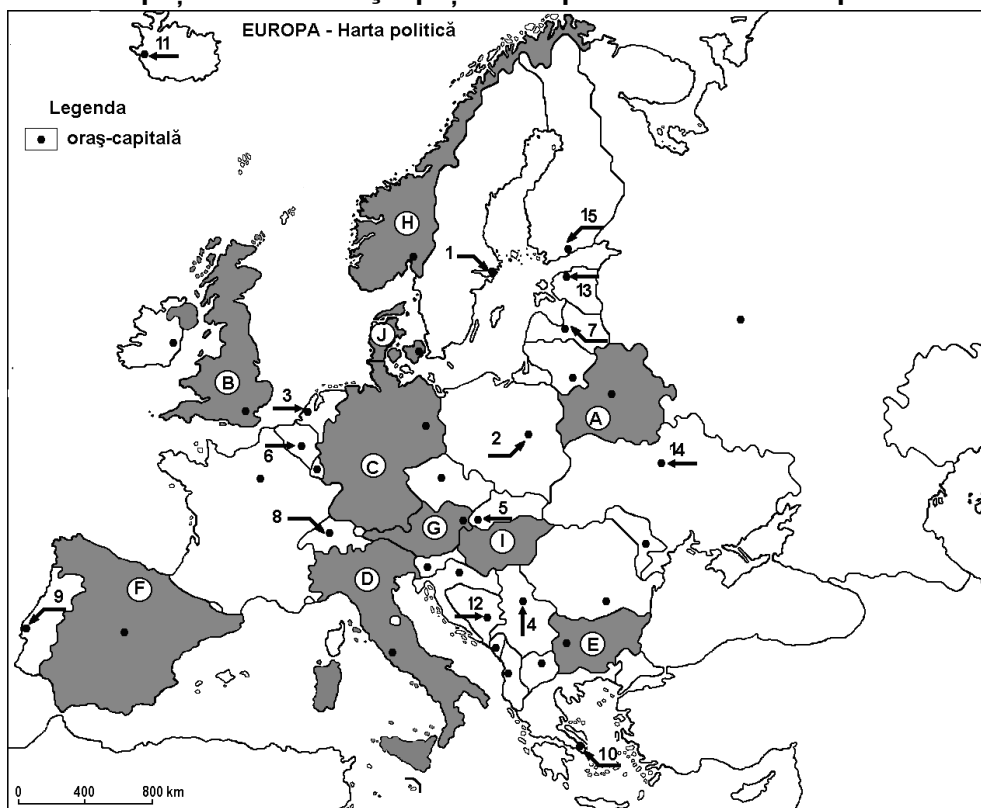


GEOGRAFIE: EUROPA – ROMÂNIA – UNIUNEA EUROPEANĂ
MODEL TEST DE EVALUARE GEOGRAFIE

Spațiul românesc și spațiul european + Relieful Europei



A. Scrieți, răspunsurile corecte care completează propozițiile de mai jos: -20 puncte

1. Vulcanii Etna și Vezuviu sunt se află în statul marcat, pe hartă, cu litera
2. Munții Penini se găsesc în statul marcat, pe hartă cu litera.....
3. Munții Alpi se găsesc în nordul statului marcat, pe hartă, cu litera.....
4. Podișul Meseta este situat în statul marcat, pe hartă, cu litera.....
5. Lanțul muntos situat pe teritoriul statului marcat, pe hartă, cu litera **H** este cel al Munților ...
.....
6. Muntii Apenini se găsesc pe teritoriul statului marcat, pe hartă, cu litera
7. La granița dintre Franța și statul marcat, pe hartă, cu litera **F** se află Munții
8. Punctul extrem nordic al Europei se află pe teritoriul statului marcat, pe hartă, cu litera
.....
9. Munții Stara Planina (Balcani) se află pe teritoriul statului marcat, pe hartă, cu litera
10. Statul marcat, pe hartă, cu litera **A** este situat în Peninsula

B. Scrieți, litera corespunzătoare răspunsului corect pentru fiecare dintre afirmațiile de mai jos: -15 puncte

1. Țărmurile cu fiorduri sunt specifice statului marcat, pe hartă, cu litera:
a. A b. D c. H d. J
2. Câmpia situată pe teritoriul statelor marcate, pe hartă, cu literele **C** este de origine:
a. fluvio-lacustră b. fluvio-glaciară c. litorală d. piemontană
3. Nu are ieșire la Oceanul Planetar statul marcat, pe hartă, cu litera:
a. A b. F c. H d. J

4. Munții Alpi sunt situați și pe teritoriul statului marcat, pe hartă, cu litera:
a. A b. B c. C d. F
5. Munții Balcani se desfășoară pe teritoriul statului marcat, pe hartă, cu litera:
a. D b. E c. F d. J

C. Precizați două deosebiri și o asemănare între **relieful** Munților Alpi și **relieful** Munților Scandinaviei.

Nota 1: Deosebirile se pot referi la oricare dintre următoarele aspecte ale **reliefului**: mod de formare, tipuri de roci, distribuția spațială a altitudinilor, gradul de fragmentare, orientarea culmilor și a văilor principale, tipuri genetice de relief, alte aspecte specifice ale reliefului.

Nota 2: Punctajul complet va fi acordat numai dacă cele două deosebiri și asemănarea vor fi prezentate comparativ și nu separat. **-15 puncte**

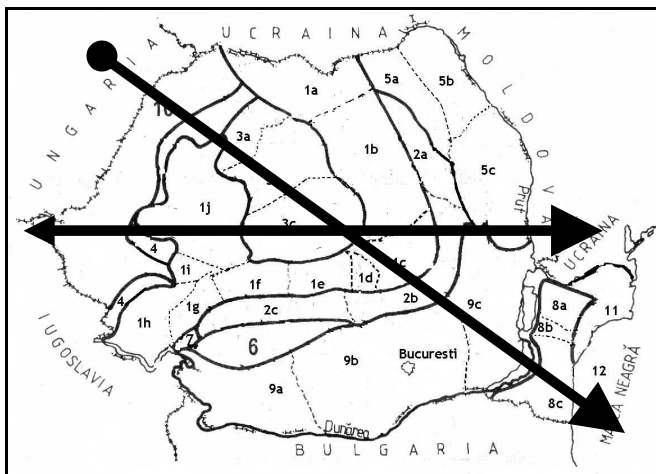
D. Scrieți, litera corespunzătoare răspunsului corect pentru fiecare dintre afirmațiile de mai jos: **-15 puncte**

- România este situată față de Capul Matapan la o distanță de:
a 1000 km; b 2200 km; c. 2900 km; d 3000 km.
- Punctul extrem din nordul țării este în localitatea:
a. Zimnicea; b Beba Veche; c Horodiștea; d Sulina.
- Clima și vegetația țării noastre au caracteristici:
a sud - europene ; b sud – est - europene; c central - europene; d est - europene.
- Cele mai mari altitudini se înregistrează în unitatea de relief numită:
a Carpați; b Câmpia Română; c Podișul Dobrogei; d Delta Dunării
- Țara vecină din sud – vestul României este:
a Ungaria; b Bulgaria; c Iugoslavia; d Ucraina.

E. Completează linia punctată cu răspunsul corect **-15 puncte**

- Centrul țării se află la intersecția paralelei de.....lat. N cu meridianul de.....long. E
- Poziția României, la distanțe egale de Polul Nord și Ecuator, este dată de paralela de.....
- Distanța dintre Capul Roca și România însumează.....
- Meridianul de.....long. E situează România la distanțe egale de Munții Ural și Capul Roca.
- Suprafața României este de.....km²

F. Dacă s-ar executa un profil geografic pe harta României, am observa următoarele unități majore de relief:
Carpații Orientali, Carpații Apuseni, Carpații Curburii, Carpații Banatului, Carpații Meridionali, Subcarpații Moldovei, Subcarpații Getici, Subcarpații de Curbură, Pod. Moldovei, Pod. Getic, Pod. Mehedinți, Pod. Dobrogei, Dep. Colinară a Transilvaniei, Dealurile de Vest, Delta Dunării, Câmpia de Vest, Câmpia Română, Lunca Dunării, Platforma continentală a Mării Negre



Se cere să identificați câte cinci unități de relief, astfel:

- dacă profilul s-ar executa pe direcție Vest-Est
- dacă profilul s-ar executa pe direcție NV - SE

-10 puncte

Timp de lucru efectiv **25 minute**

Se acordă din oficiu **10 puncte**

MODEL TEST DE EVALUARE GEOGRAFIE**Spațiul românesc și spațiul european + Relieful Europei****A. Scrieți, răspunsurile corecte care completează propozițiile de mai jos: -20 puncte**

1. Vulcanul Hekla sunt se află în statul marcat, pe hartă, cu litera
2. Munții Apenini se găsesc în statul marcat, pe hartă cu litera.....
3. Munții Pindului se găsesc în statul marcat, pe hartă, cu litera.....
4. Podișul Meseta este situat în statul marcat, pe hartă, cu litera.....
5. Lanțul muntos situat în nordul statului marcat, pe hartă, cu litera **F** este cel al Munților
6. Alpii Scandinaviei se găsesc pe teritoriul statului marcat, pe hartă, cu litera
7. La granița dintre Franța și statul marcat, pe hartă, cu litera **F** se află Munții
8. Punctul extrem sudic al Europei se află pe teritoriul statului marcat, pe hartă, cu litera
9. Munții Pirinei se află la granița sudică a statului marcat, pe hartă, cu litera
10. Statul marcat, pe hartă, cu litera **D** este situat în Peninsula

B. Scrieți, litera corespunzătoare răspunsului corect pentru fiecare dintre afirmațiile de mai jos: -15 puncte

1. Țărmurile cu estuare sunt specifice statului marcat, pe hartă, cu litera:
 - a. A
 - b. C
 - c. H
 - d. J
2. Câmpia situată pe teritoriul statului marcat, pe hartă, cu litera **C** este de origine:
 - a. fluvio-lacustră
 - b. fluvio-glaciară
 - c. litorală
 - d. piemontană
3. Nu are ieșire la Oceanul Planetar statul marcat, pe hartă, cu litera:
 - a. A
 - b. E
 - c. H
 - d. J
4. Munții Alpi sunt situați și pe teritoriul statului marcat, pe hartă, cu litera:
 - a. A
 - b. B
 - c. C
 - d. D
5. Munții Carpați se desfășoară pe teritoriul statului marcat, pe hartă, cu litera:
 - a. A
 - b. C
 - c. F
 - d. J

C. Precizați două deosebiri și o asemănare între **relieful** Munților Alpi și **relieful** Munților Ural.

Nota 1: Deosebirile și asemănarea se pot referi la oricare dintre următoarele aspecte ale **reliefului**: mod de formare, tipuri de roci, distribuția spațială a altitudinilor, gradul de fragmentare, orientarea culmilor și a văilor principale, tipuri genetice de relief, alte aspecte specifice ale reliefului.

Nota 2: Punctajul complet va fi acordat numai dacă cele două deosebiri și asemanarea vor fi prezentate comparativ și nu separat.

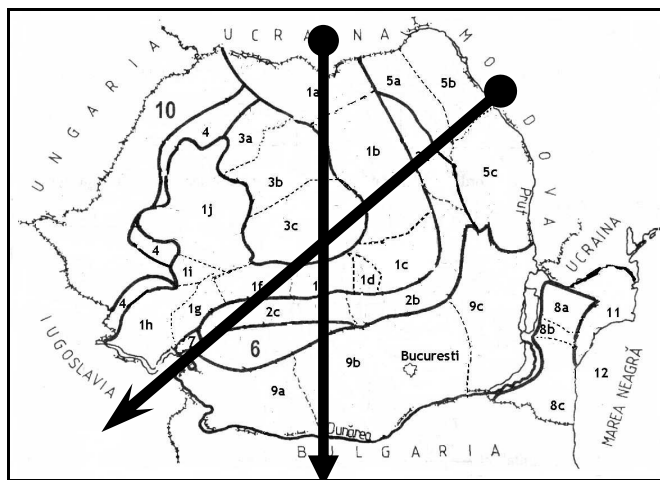
D. Scrieți, litera corespunzătoare răspunsului corect pentru fiecare dintre afirmațiile de mai jos: **-15 puncte**

1. România este situată la 1000 de km distanță față la o de:
a M-ții Ural; b Capul Rocca; c. Capul Nord; d Capul Matapan
2. Punctul extrem din sudic al țării este în localitatea:
a. Zimnicea; b Beba Veche; c Horodiștea; d Sulina.
3. Clima și vegetația țării noastre au caracteristici:
a sud - europene ; b sud – est - europene; c central - europene; d est - europene.
4. Cele mai mici altitudini se înregistrează în unitatea de relief numită:
a Carpați; b Câmpia Română; c Podișul Dobrogei; d Delta Dunării.
5. Țara vecină din vestul României este:
a Ungaria; b Bulgaria; c Iugoslavia; d Ucraina.

E. Completează linia punctată cu răspunsul corect **-15 puncte**

1. Cea mai veche regiune de orogen din România este
2. Localitatea situată la extremitatea nordică a țării este
3. Țara noastră se învecinează în S cu statul
4. Suprafața României este dekm
5. Localitatea situată la extremitatea nordică a țării este

F. Dacă s-ar executa un profil geografic pe harta României, am observa următoarele unități majore de relief:
Carpații Orientali, Carpații Apuseni, Carpații Curburii, Carpații Banatului, Carpații Meridionali, Subcarpații Moldovei, Subcarpații Getici, Subcarpații de Curbură, Pod. Moldovei, Pod. Getic, Pod. Mehedinți, Pod. Dobrogei, Dep. Colinară a Transilvaniei, Dealurile de Vest, Delta Dunării, Câmpia de Vest, Câmpia Română, Lunca Dunării, Platforma continentală a Mării Negre



Se cere să identificați cinci unități de relief, astfel:

- a. dacă profilul s-ar executa pe direcție **Nord-Sud**
- b. dacă profilul s-ar executa pe direcție **NE - SV**

Timpe de lucru efectiv **25 minute**

Se acordă din oficiu **10 puncte**